

A quelle fraction de ces figures correspond la partie coloriée en rouge ?

$$\frac{3}{9}$$

$$\frac{5}{9}$$

$$\frac{3}{7}$$

$$\frac{5}{7}$$

$$\frac{3}{6}$$



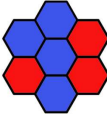
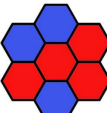

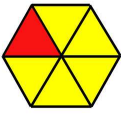
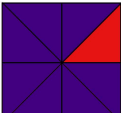



$$\frac{1}{6}$$

$$\frac{1}{8}$$

$$\frac{4}{8}$$

$$\frac{2}{6}$$

$$\frac{7}{8}$$

	$\frac{3}{9}$	Trois neuvièmes
	$\frac{5}{9}$	Cinq neuvièmes
	$\frac{3}{7}$	Trois septièmes
	$\frac{5}{7}$	Cinq septièmes
	$\frac{3}{6}$	Trois sixièmes
	$\frac{1}{6}$	Un sixième
	$\frac{1}{8}$	Un huitième
	$\frac{4}{8}$	Quatre huitièmes
	$\frac{2}{6}$	Deux sixièmes
	$\frac{7}{8}$	Sept huitièmes

